

ONDAS

[Método e recomendacións](#)● Ecuación e características das ondas

1. Unha onda transmítese ao longo dunha corda. O punto situado en $x = 0$ oscila segundo a ecuación $y = 0,1 \cos(10 \pi t)$ e outro punto situado en $x = 0,03$ m oscila segundo a ecuación $y = 0,1 \cos(10 \pi t - \pi / 4)$. Calcula:
- A amplitude, a lonxitude de onda, o número de onda k , o período, a frecuencia e pulsación ω da onda.
 - A velocidade de propagación da onda e indica en que sentido se propaga.
 - O tempo que ha de transcorrer para que a onda percorra unha distancia igual a 2λ .
 - Escrebe a ecuación de onda.
 - A velocidade de oscilación dun punto da corda e a súa aceleración en función do tempo.
 - A elongación, velocidade e aceleración dun punto situado en $x = 0,03$ m no instante $t = 0,05$ s.
 - Os valores máximos da velocidade e aceleración das partículas da corda.
 - Os valores do tempo para os que $y(x, t)$ é máxima na posición $x = 0,03$ m.
 - Os valores do tempo para os que un punto situado en $x = 0,03$ m ten velocidade máxima.
 - A distancia entre dous puntos cuxa diferenza de fase nun instante dado é $2 \pi / 3$.
 - A diferenza de fase entre dous puntos separados 15 cm.
 - A diferenza de fase entre dous estados de vibración da mesma partícula cando o intervalo de tempo transcorrido é de 0,05 s.
 - Para un tempo fixo t , que puntos da onda están en fase co punto que se atopa en $x = 0,03$ m?
 - Para unha posición fixa x , para que tempos o estado de vibración dese punto está en fase coa vibración para $t = 0,05$ s?

Problema modelo baseado en P.A.U. Xuño 06

- Rta.:** a) $A = 0,100$ m; $\lambda = 0,240$ m; $k = 26,2$ rad/m; $f = 5,00$ Hz; $\omega = 31,4$ rad/s. b) $v_p = 1,20$ m/s; c) $t_2 = 0,400$ s; d) $y = 0,100 \cdot \cos(31,4 \cdot t - 26,2 \cdot x)$ [m]; e) $v = -3,14 \cdot \sin(31,4 \cdot t - 26,2 \cdot x)$ [m/s]; $a = -98,7 \cdot \cos(31,4 \cdot t - 26,2 \cdot x)$ [m/s²]; f) $y_3 = 0,0707$ m; $v_3 = 2,22$ m/s; $a_3 = -69,8$ m/s²; g) $v_m = 3,14$ m/s; $a_m = 98,7$ m/s²; h) $t_{my} = 0,0750 + 0,100 n$ (s); i) $t_{mv} = 0,0250 + 0,100 n$ (s); j) $\Delta x = 0,0800 + 0,240 \cdot n$ [m]; k) $\Delta \varphi_x = 3,93$ rad; l) $\Delta \varphi_t = 1,57$ rad; m) $x_3 = 0,0300 + 0,240 n$ [m]; n) $t_3 = 0,0500 + 0,200 n$ [s], $n = 0, 1, 2, \dots$

DatosEcuación de oscilación na orixe $x = 0$ Ecuación de oscilación en $x = 0,03$ m**Incógnitas**

Amplitude

Lonxitude de onda

Número de onda

Período

Frecuencia

Pulsación

Velocidade de propagación

Tempo para que a onda percorra unha distancia igual a 2λ

Ecuación de onda

Velocidade da partícula nun punto en función do tempo

Aceleración da partícula nun punto en función do tempo

Elongación en $x = 0,03$ m en $t = 0,05$ s.Velocidade en $x = 0,03$ m en $t = 0,05$ s.Aceleración en $x = 0,03$ m en $t = 0,05$ s.

Velocidade máxima das partículas

Aceleración máxima das partículas

Os valores do tempo para os que y é máxima en $x = 0,03$ mOs valores do tempo para os que v é máxima en $x = 0,03$ mA distancia entre dous puntos cuxa diferenza de fase nun instante dado é $2 \pi / 3$.**Cifras significativas: 3** $y = 0,100 \cdot \cos(10,0 \cdot \pi \cdot t)$ [m] $y = 0,100 \cdot \cos(10,0 \cdot \pi \cdot t - \pi / 4,00)$ [m] A λ k T f ω v_p t_2 $y(x, t)$ v a y_3 v_3 a_3 v_m a_m t_{my} t_{mv} Δx

Incógnitas

A diferenza de fase entre dous puntos separados 15 cm.	$\Delta\varphi_x$
A diferenza de fase entre dous estados de vibración da mesma partícula cando o intervalo de tempo transcorrido é de 0,05 s	$\Delta\varphi_t$
Puntos da onda que están en fase co punto en $x = 0,03$ m	x_3
En que tempos o estado de vibración dese punto está en fase coa vibración para $t = 0,05$ s	t_3

Outros símbolos

Posición do punto (distancia ao foco)	x
Amplitude	A
Frecuencia	f

Ecuacións

Ecuación dunha onda harmónica unidimensional	$y = A \cdot \cos(\omega \cdot t \pm k \cdot x)$
Número de onda	$k = 2\pi / \lambda$
Relación entre a frecuencia angular e a frecuencia	$\omega = 2\pi \cdot f$
Relación entre o período e a frecuencia	$f = 1 / T$
Relación entre a lonxitude de onda e a velocidade de propagación	$v_p = \lambda \cdot f$

Solución:

a) Calcúlase a amplitude e a frecuencia angular comparando a ecuación dunha onda harmónica unidimensional coa ecuación de vibración na orixe:

Ecuación xeral dunha onda harmónica:	$y = A \cdot \cos(\omega \cdot t \pm k \cdot x)$
Ecuación da onda harmónica na orixe ($x = 0$):	$y = 0,100 \cdot \cos(10,0 \cdot \pi \cdot t)$ [m]
Amplitude:	$A = 0,100$ m
Frecuencia angular:	$\omega = 10,0 \cdot \pi$ [rad/s] = 31,4 rad/s

Calcúlase o número de onda comparando a ecuación da onda harmónica unidimensional, na que se substituíron a amplitude e a frecuencia angular, coa ecuación de vibración en o punto $x = 0,0300$ m:

Ecuación da onda harmónica:	$y = 0,100 \cdot \cos(10,0 \cdot \pi \cdot t \pm k \cdot x)$ [m]
Ecuación da onda harmónica no punto $x = 0,0300$ m:	$y = 0,100 \cdot \cos(10,0 \cdot \pi \cdot t - \pi / 4,00)$ [m]

$$k \cdot x = \pi / 4,00 \Rightarrow k = \frac{\pi}{4,00 \cdot x} = \frac{3,14 \text{ [rad]}}{4,00 \cdot 0,030 \text{ [m]}} = 26,2 \text{ rad/m}$$

Calcúlase a lonxitude de onda a partir do número de onda:

$$k = 2\pi / \lambda \Rightarrow \lambda = \frac{2\pi}{k} = \frac{2 \cdot 3,14 \text{ [rad]}}{26,2 \text{ [rad/m]}} = 0,240 \text{ m}$$

Calcúlase a frecuencia a partir da frecuencia angular:

$$\omega = 2\pi \cdot f \Rightarrow f = \frac{\omega}{2\pi} = \frac{10,0 \cdot \pi}{2\pi} = 5,00 \text{ s}^{-1}$$

Calcúlase o período a partir da frecuencia:

$$f = 1 / T \Rightarrow T = \frac{1}{f} = \frac{1}{5,00 \text{ s}^{-1}} = 0,200 \text{ s}$$

b) Calcúlase a velocidade de propagación da onda a partir da lonxitude de onda e da frecuencia:

$$v_p = \lambda \cdot f = 0,240 \text{ [m]} \cdot 5,00 \text{ [s}^{-1}] = 1,20 \text{ m/s}$$

Como a onda no punto $x = 0,0300$ m está atrasada en $\pi / 4,00$ rad porque na ecuación aparece o signo «-», a onda desprázase no sentido positivo do eixo X.

c) Calcúlase o tempo que tarda en percorrer unha distancia igual a $\Delta x = 2 \cdot \lambda = 2 \cdot 0,240$ [m] = 0,480 m a partir da velocidade de propagación constante da onda

$$v_p = \frac{\Delta x}{\Delta t} \Rightarrow t_3 = \frac{\Delta x}{v_p} = \frac{0,480 \text{ [m]}}{1,20 \text{ [m/s]}} = 0,400 \text{ s}$$

Análise: Pódese definir o período como o tempo que tarda unha onda en percorrer unha distancia igual á lonxitude de onda. Por tanto o tempo necesario para que a onda percorra unha distancia igual a $2 \cdot \lambda$, será o dobre do período: $t_2 = 2 \cdot T = 2 \cdot 0,200$ [s] = 0,400 s.

d) A ecuación de movemento obtense substituíndo os valores de k e ω :

$$y = A \cdot \cos(\omega \cdot t - k \cdot x) = 0,100 \cdot \cos(10,0 \cdot \pi \cdot t - \pi / 0,120 \cdot x) = 0,100 \cdot \cos(31,4 \cdot t - 26,2 \cdot x) \text{ [m]}$$

Análise: Pódese comprobar que esta ecuación dá as ecuacións para $x = 0$, $y = 0,100 \cdot \cos(31,4 \cdot t)$ e para $x = 0,03$ m, $y = 0,100 \cdot \cos(31,4 \cdot t - 0,786) = 0,100 \cdot \cos(31,4 \cdot t - \pi / 4)$

e) A velocidade obtense derivando a ecuación de movemento con respecto ao tempo :

$$v = \frac{dy}{dt} = \frac{d\{0,100 \cdot \cos(31,4 \cdot t - 26,2 \cdot x)\}}{dt} = -0,100 \cdot 31,4 \cdot \text{sen}(31,4 \cdot t - 26,2 \cdot x) \text{ [m/s]}$$

$$v = -3,14 \cdot \text{sen}(31,4 \cdot t - 26,2 \cdot x) \text{ [m/s]}$$

A aceleración obtense derivando a ecuación da velocidade con respecto ao tempo :

$$a = \frac{dv}{dt} = \frac{d\{-3,14 \cdot \text{sen}(31,4 \cdot t - 26,2 \cdot x)\}}{dt} = -3,14 \cdot 31,4 \cdot \cos(31,4 \cdot t - 26,2 \cdot x) \text{ [m/s}^2\text{]}$$

$$a = -98,7 \cdot \cos(31,4 \cdot t - 26,2 \cdot x) \text{ [m/s}^2\text{]}$$

f) Substitúense nas ecuacións os valores da posición $x = 0,03$ m e o tempo $t = 0,05$ s.

$$y_3 = 0,100 \cdot \cos(31,4 \cdot 0,0500 - 26,2 \cdot 0,0300) = 0,0707 \text{ m}$$

$$v_3 = -3,14 \cdot \text{sen}(31,4 \cdot 0,0500 - 26,2 \cdot 0,0300) = 2,22 \text{ m/s}$$

$$a_3 = -98,7 \cdot \cos(31,4 \cdot 0,0500 - 26,2 \cdot 0,0300) = -69,8 \text{ m/s}^2$$

g) A velocidade é máxima cando o seno da fase vale -1 :

$$v_m = -3,14 \cdot (-1) = 3,14 \text{ m/s}$$

A aceleración é máxima cando o coseno da fase vale -1 :

$$a_m = -98,7 \cdot (-1) = 98,7 \text{ m/s}^2$$

h) Para obter os valores do tempo para os que y é máxima en $x = 0,03$ m, imponse a condición de que o coseno da fase nese punto valla 1, o que corresponde a unha fase de 0 rad:

$$\cos(31,4 \cdot t_{my} - 26,2 \cdot 0,03) = 1$$

$$31,4 \cdot t_{my} - 26,2 \cdot 0,03 = 0$$

$$t_{my} = \frac{26,2 \cdot 0,030}{31,4} = 0,025 \text{ (s)}$$

Esta situación volve repetirse transcorridos un número n de semiperíodos, se só nos atemos a que o valor da elongación sexa máxima.

$$t_{my} = 0,0250 + 0,100 n \text{ (s); } n = 0, 1, 2, \dots$$

Se entendemos que máximo se refire tamén ao signo, entón repítese cada n períodos:

$$t_{my} = 0,0250 + 0,200 n \text{ (s); } n = 0, 1, 2, \dots$$

i) De forma análoga, a velocidade será máxima cando o seno da fase nese punto valla 1, o que corresponde a unha fase de $\pi / 2$ rad:

$$\text{sen}(31,4 \cdot t_m - 26,2 \cdot 0,0300) = 1$$

$$31,4 \cdot t_m - 26,2 \cdot 0,0300 = \pi / 2$$

$$t_m = \frac{26,2 \cdot 0,030 + 3,14/2}{31,4} = 0,075 \text{ (s)}$$

Esta situación volve repetirse transcorridos un número n de semiperíodos, se só nos atemos a que o valor da velocidade sexa máxima.

$$t_{mv} = 0,0750 + 0,100 n \text{ (s); } n = 0, 1, 2, \dots$$

Se entendemos que máximo se refire tamén ao signo, entón repítese cada n períodos:

$$t_{mv} = 0,0750 + 0,200 n \text{ (s); } n = 0, 1, 2, \dots$$

j) A distancia entre dous puntos cuxa diferenza de fase nun instante dado é $2\pi/3$ obtense restando as expresións das fases de ambos os puntos e igualando o resultado a $2\pi/3$.

$$(31,4 \cdot t - 26,2 \cdot x_2) - (31,4 \cdot t - 26,2 \cdot x_1) = 2\pi/3$$

$$26,2 \cdot (x_1 - x_2) = 2\pi/3$$

$$\Delta x = x_1 - x_2 = \frac{2 \cdot 3,14/3}{26,2} = 0,080 \text{ (m)}$$

Se a diferenza de fase fose de 2π rad, a distancia entre os puntos sería unha lonxitude de onda λ . A unha diferenza de fase de $2\pi/3$ rad correspóndelle unha distancia de $\lambda/3 = 0,240 \text{ [m]} / 3 = 0,0800 \text{ m}$

Todos os puntos que disten un múltiplo n de lonxitudes de onda do máis próximo, tamén terán unha diferenza de fase de $2\pi/3$ co punto de referencia.

$$\Delta x = 0,0800 + 0,240 \cdot n \text{ [m]}$$

k) A diferenza de fase entre dous puntos que disten 15 cm obtense restando as expresións das fases de ambos os puntos

$$\Delta\varphi_x = (31,4 \cdot t - 26,2 \cdot x_2) - (31,4 \cdot t - 26,2 \cdot x_1)$$

$$\Delta\varphi_x = 26,2 \cdot (x_1 - x_2) = 26,2 \cdot 0,150 = 3,93 \text{ rad}$$

l) A diferenza de fase entre dous estados de vibración da mesma partícula cando o intervalo de tempo transcorrido é de 0,05 s obtense restando as expresións das fases de ambos os puntos

$$\Delta\varphi_t = (31,4 \cdot t_2 - 26,2 \cdot x) - (31,4 \cdot t_1 - 26,2 \cdot x)$$

$$\Delta\varphi_t = 31,4 \cdot (t_2 - t_1) = 31,4 \cdot 0,0500 = 1,57 \text{ rad}$$

m) Todos os puntos que disten un múltiplo n de lonxitudes de onda λ do punto en $x = 0,03 \text{ m}$ estarán en fase con el:

$$x_3 = 0,0300 + 0,240 n \text{ [m], } n = 0, 1, 2, \dots$$


m) En todos os tempos que disten un múltiplo n de períodos T do tempo en $t = 0,05 \text{ s}$, o estado de vibración estará en fase con ese instante:

$$t_3 = 0,0500 + 0,200 n \text{ [s], } n = 0, 1, 2, \dots$$

As respostas poden calcularse coa folla de cálculo [Física \(gal\)](#).

As instrucións para o manexo desta folla de cálculo poden verse na ligazón [instrucións](#).

Para ir á folla para resolver un problema de ondas pode elixir unha destas opcións:

- Prema sobre a icona ►, do grupo ◀ ◀ ► ► situado na parte inferior esquerda, varias veces ata que vexa a pestana  Ondas. Logo prema sobre esa pestana.
- No índice, pulse a tecla [Ctrl] mentres preme sobre a cela [Ondas](#) do capítulo **Vibracións e ondas**.

Escriba os datos nas celas de cor branca con bordo azul.

Para escribir o símbolo π , teclee :pi:

Pode escribir =10*PI() en vez de 10π ou =PI()/4 en vez de $\pi/4$

Prema nas celas de cor laranxa para elixir entre as opcións que se presentan. Para este problema debería ser:

Ecuación	$y = A \cos (\omega t \pm k x + \varphi_0)$
Amplitude	$A = 0,1 \text{ m}$
Frecuencia angular	$\omega = 10 \pi \text{ rad/s}$
Diferenza de fase no instante	$\Delta\varphi = \pi / 4 \text{ rad}$
Diferenza de fase	$\Delta\varphi = \pi / 4 \text{ rad}$

Para ver os resultados, faga clic nas celas de cor laranxa e elixa as opcións como se mostra:

Ecuación xeral	$y = 0,100 \cos(31,4 t - 26,2 x) \text{ (m)}$	Cifras significativas: 3
Valor		
a) Período	$T = 0,200 \text{ s}$	
a) Lonxitude de onda	$\lambda = 0,240 \text{ m}$	
b) Velocidade de propagación	$v = 1,20 \text{ m/s}$	

Facendo clic nas celas de cor laranxa de «Período» e «Lonxitude de onda», podemos obter outros resultados elixindo

a) Frecuencia	$f = 5,00 \text{ Hz}$
a) Número de onda k	$k = 26,2 \text{ rad/m}$

E tamén

a) Frecuencia angular	$\omega = 31,4 \text{ rad/s}$
-----------------------	-------------------------------

Para o apartado c (o tempo para percorrer unha distancia igual a $2 \cdot \lambda$) a folla non lle vai dar a solución. Pode escribir unha fórmula sinxela nunha das celas baixo «OUTROS CÁLCULOS»

OUTROS CÁLCULOS				
Etiqueta:	Tempo 2λ			
Fórmula:	$=2 \cdot 0,240$			

A fórmula pode ser $=2 \cdot 0,24/1,2$
 poñendo os valores obtidos.
 Pode escribir tamén $=2 \cdot \text{AVALOR}($
 e facer clic na cela que contén «0,240» á dereita de « $\lambda =$ ».
 Agora verase: $=2 \cdot \text{AVALOR}(H19$
 Siga escribindo $=2 \cdot \text{AVALOR}(H19)/\text{AVALOR}($
 Faga clic na cela que contén «1,20» á dereita de « $v =$ » e escriba a paréntese final $=2 \cdot \text{AVALOR}(H18)/\text{AVALOR}(H20)$

As ecuacións da velocidade e aceleración obtéñense facendo clic en «Elongación» baixo «Ecuación» e elixindo

e) Velocidade	$v = -3,14 \sin(31,4 t - 26,2 x) \text{ (m/s)}$
---------------	---

E facendo clic na mesma cela, elixa

e) Aceleración	$a = -98,7 \cos(31,4 t - 26,2 x) \text{ (m/s}^2\text{)}$
----------------	--

Para obter os valores da elongación, velocidade e aceleración nun tempo e posición concretos, temos que cambiar algúns dos datos, poñendo por exemplo o valor da lonxitude de onda. Temos que cambiar Δx por x , e escribir o valor do tempo xunto a t , e borrar o valor da «Diferenza de fase»

Ecuación	$y = A \cos (\omega t \pm k x + \varphi_0)$
----------	---

Amplitude	$A =$	0,1	m
Frecuencia angular	$\omega =$	10π	rad/s
Lonxitude de onda	$\lambda =$	0,24	m
Posición do punto no instante	$x =$	0,03	m
	$t =$	0,05	s
Diferenza de fase	$\Delta\varphi =$		rad

Facendo clic na cela de cor laranxa baixo «Valor» eliximos

	Valor	Máximo	En $x = 0,03$ m aos 0,05 s
f)	Elongación	$y_m = 0,100$ m	$y = 0,0707$ m

Na mesma cela,

f), g)	Velocidade	$v_m = 3,14$ m/s	$v = -2,22$ m/s
--------	------------	------------------	-----------------

Vense tamén os valores máximos. Facendo clic outra vez na mesma cela:

f), g)	Aceleración	$a_m = 98,7$ m/s ²	$a = -69,8$ m/s ²
--------	-------------	-------------------------------	------------------------------

Obtemos os valores do tempo para os que $y(x, t)$ é máxima na posición $x = 0,03$ m, borrando o valor do tempo nos datos

no instante	$t =$		s
-------------	-------	--	---

e facendo clic na cela de cor laranxa baixo «Velocidade de propagación» elixindo

h)	Tempo de elongación máxima, $t =$	$0,0250 + 0,100 n$ (s)
----	-----------------------------------	------------------------

Facendo clic na mesma cela, podemos ver

i)	Tempo de velocidade máxima, $t =$	$0,0750 + 0,100 n$ (s)
----	-----------------------------------	------------------------

Para ver a distancia entre dous puntos cuxa diferenza de fase nun instante dado é $2\pi/3$, só haberá que escribir nos datos:

Diferenza de fase $\Delta\varphi =$	$2\pi/3$	rad
-------------------------------------	----------	-----

Aparecerá na última liña dos resultados:

j)	Distancia entre puntos $\Delta x =$	0,0800 m se	$\Delta\varphi = 2,09$ rad	
----	-------------------------------------	-------------	----------------------------	--

Para o apartado seguinte, cambiamos nos datos x por Δx , escribimos a distancia, eliximos a unidade e borraremos o valor da «Diferenza de fase»

Distancia entre puntos	$\Delta x =$	15	cm
no instante	$t =$		s
Diferenza de fase	$\Delta\varphi =$		rad

A última liña de RESULTADOS mostrará:

k)	Diferenza de fase $\Delta\varphi =$	3,93 rad se	$\Delta x = 15$ cm	
----	-------------------------------------	-------------	--------------------	--

Podemos facer clic na cela de cor laranxa, para que a diferenza de fase apareza en función de π .

k)	Diferenza de fase $\Delta\varphi =$	$5\pi/4$ rad se	$\Delta x = 15$ cm	π
----	-------------------------------------	-----------------	--------------------	-------

Para ver a diferenza de fase cando o intervalo de tempo transcorrido é de 0,05 s, esta folla non lle dá o resultado.

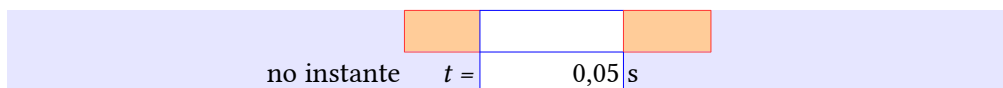
Para ver que puntos da onda están en fase co punto que se atopa en $x = 0,03$ m, volvemos cambiar nos datos Δx por x , escribimos a posición e eliximos a unidade.

Posición do punto	$x =$	0,03	m
-------------------	-------	------	---

Facendo clic na cela de cor laranxa baixo «Velocidade de propagación» e elixindo

m)	Posicións de puntos en fase, $x =$	$0,0300 + 0,240 n$ (m)
----	------------------------------------	------------------------

Para ver en que tempos o estado de vibración de ese punto está en fase coa vibración para $t = 0,05$ s, borraremos os datos de x , e escribimos o tempo.



Facemos clic na cela de cor laranxa baixo «Velocidade de propagación» elixindo

n) **Tempos de puntos en fase, $t = 0,0500 + 0,200 n$ (s)**

2. Unha onda harmónica transversal de frecuencia 2 Hz, lonxitude de onda 20 cm e amplitude 4 cm, propágase por unha corda no sentido positivo do eixe X. No intre $t = 0$, a elongación no punto $x = 0$ é $y = 2,83$ cm.

- Expresa matematicamente a onda e represéntaa graficamente en ($t = 0$; $0 < x < 40$ cm).
- Calcula a velocidade de propagación da onda e determina, en función do tempo, a velocidade de oscilación transversal da partícula situada en $x = 5$ cm.

(A.B.A.U. Xul. 21)

Rta.: a) $y = 0,0400 \text{ sen}(4 \pi t - 10 \pi x + \pi / 4)$ [m]; b) $v_p = 0,400$ m/s; $v = 0,503 \text{ cos}(4 \pi t - \pi / 4)$ [m/s]

Datos

Frecuencia

Lonxitude de onda

Amplitude

Elongación en $x = 0$ para $t = 0$

Incógnitas

Ecuación da onda (frecuencia angular e número de onda)

Velocidade de propagación

Velocidade da partícula en $x = 5$ cm en función do tempo

Outros símbolos

Posición do punto (distancia ao foco)

Período

Ecuacións

Ecuación dunha onda harmónica unidimensional

Número de onda

Frecuencia angular

Relación entre a lonxitude de onda e a velocidade de propagación

Cifras significativas: 3

$$f = 2,00 \text{ Hz} = 2,00 \text{ s}^{-1}$$

$$\lambda = 20,0 \text{ cm} = 0,200 \text{ m}$$

$$A = 0,0400 \text{ m} = 0,0400 \text{ m}$$

$$y = 2,83 \text{ cm} = 0,0283 \text{ m}$$

$$\omega, k$$

$$v_p$$

$$v$$

$$x$$

$$T$$

$$y = A \cdot \text{sen}(\omega \cdot t \pm k \cdot x + \varphi_0)$$

$$k = 2 \pi / \lambda$$

$$\omega = 2 \pi \cdot f$$

$$v_p = \lambda \cdot f$$

Solución:

a) Tómase a ecuación dunha onda harmónica en sentido positivo do eixe X:

$$y = A \cdot \text{sen}(\omega \cdot t - k \cdot x + \varphi_0)$$

Calcúlase a frecuencia angular a partir da frecuencia:

$$\omega = 2 \pi \cdot f = 2 \cdot 3,14 \cdot 2,00 \text{ [s}^{-1}] = 4,00 \cdot \pi \text{ [rad} \cdot \text{s}^{-1}] = 12,6 \text{ rad} \cdot \text{s}^{-1}$$

Calcúlase o número de onda a partir da lonxitude de onda:

$$k = \frac{2 \pi}{\lambda} = \frac{2 \cdot 3,14 \text{ [rad]}}{0,200 \text{ [m]}} = 10 \pi \text{ rad/m} = 31,4 \text{ rad/m}$$

Calcúlase a fase inicial a partir da elongación en $x = 0$ para $t = 0$.

$$y(x, t) = 0,0400 \cdot \text{sen}(12,6 \cdot t - 31,4 \cdot x + \varphi_0) \text{ [m]}$$

$$0,0283 \text{ [m]} = 0,0400 \cdot \text{sen}(12,6 \cdot 0 - 31,4 \cdot 0 + \varphi_0) \text{ [m]} = 0,0400 \cdot \text{sen}(\varphi_0)$$

$$\text{sen}(\varphi_0) = 0,0283 / 0,0400 = 0,721$$

$$\varphi_0 = \arcsen 0,721 = 0,786 \text{ rad} = \pi / 4 \text{ rad}$$

A ecuación de onda queda:

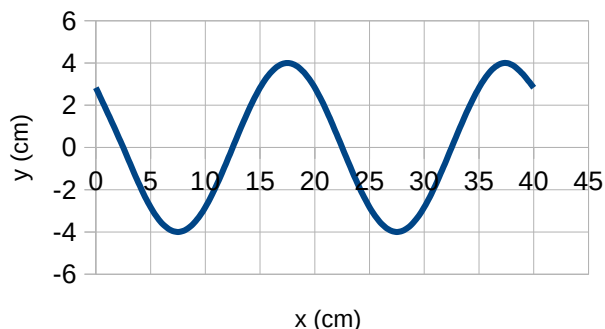
$$y(x, t) = 0,0400 \cdot \text{sen}(12,6 \cdot t - 31,4 \cdot x + 0,786) \text{ [m]} = 0,0400 \cdot \text{sen}(4 \pi \cdot t - 10 \pi \cdot x + \pi / 4) \text{ [m]}$$

A representación gráfica é a da figura:

b) Calcúlase a velocidade de propagación a partir da lonxitude de onda e a frecuencia:

$$v_p = \lambda \cdot f = 0,200 \text{ [m]} \cdot 2,00 \text{ [s}^{-1}\text{]} = 0,400 \text{ m/s}$$

A velocidade obtense derivando a ecuación de movemento con respecto ao tempo:



$$v = \frac{dy}{dt} = \frac{d[0,040 \text{ sen}(12,6 \cdot t - 31,4 \cdot x + 0,786)]}{dt} = 0,040 \cdot 12,6 \cos(12,6 \cdot t - 31,4 \cdot x + 0,786) \text{ [m/s]}$$

$$v = 0,503 \cdot \cos(12,6 \cdot t - 31,4 \cdot x + 0,786) \text{ [m/s]}$$

Para $x = 5 \text{ cm}$ ($=0,05 \text{ m}$), a expresión queda:

$$v = 0,503 \cdot \cos(12,6 \cdot t - 31,4 \cdot 0,0500 + 0,786) = 0,503 \cdot \cos(12,6 \cdot t - 0,786) = 0,503 \cdot \cos(4 \pi \cdot t - \pi / 4) \text{ [m/s]}$$

A respostas poden calcularse coa folla de cálculo [Física \(gal\)](#).

As instrucións para o manexo desta folla de cálculo poden verse na ligazón [instrucións](#).

Para ir á folla para resolver un problema de ondas pode elixir unha destas opcións:

- Prema sobre a icona ▶, do grupo |◀ ◀ ▶ ▶| situado na parte inferior esquerda, varias veces ata que vexa a pestana Ondas. Logo prema sobre esa pestana.
- No índice, pulse a tecla [Ctrl] mentres preme sobre a cela [Ondas](#) do capítulo **Vibracións e ondas**.

Escriba os datos nas celas de cor branca con bordo azul. Prema nas celas de cor laranxa para elixir entre as opcións que se presentan. Para este problema debería ser:

Ecuación	$y = A$	sen	$(\omega t \pm kx + \varphi_0)$
Amplitude	<input type="text" value="4"/>	cm	
Frecuencia	<input type="text" value="2"/>	Hz	
Lonxitude de onda	<input type="text" value="0,2"/>	m	
Posición do punto	<input type="text" value="5"/>	cm	
no instante	<input type="text" value="0"/>	s	
Elongación inicial	<input type="text" value="2,83"/>	cm	
Diferenza de fase	<input type="text"/>	rad	

Para ver os resultados, faga clic nas celas de cor laranxa e elixa as opcións como se mostra:

		Cifras significativas:	<input type="text" value="3"/>
a)	Ecuación xeral	<input type="text" value=""/>	<input type="text" value="π"/>
	Elongación	$y = 0,0400 \text{ sen}(4 \pi t - 10 \pi x + \pi/4) \text{ (m)}$	

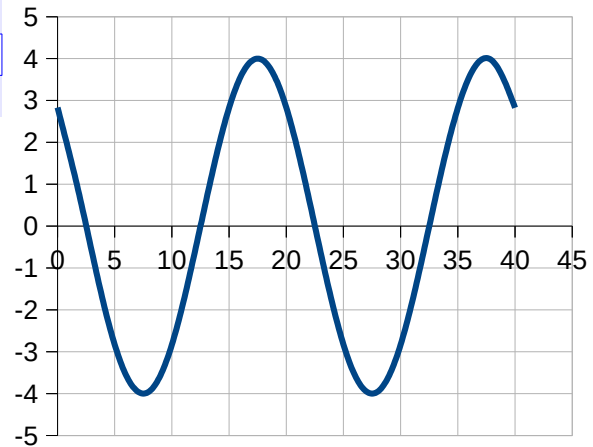
Máis abaixo verá:

Velocidade de propagación	$v =$	<input type="text" value="0,400"/>	m/s
---------------------------	-------	------------------------------------	-----

Para a representación gráfica elixa «Tempo (s)» na cela de cor laranxa e teclee os datos do tempo e as posicións inicial e final.

Tempo (s)	mín.	máx.
0	0	40

Posición (cm)



A gráfica será como a seguinte:

Para ver os resultados de apartado b) cambie «xeral» por «en x = 5 cm» e «Elongación» por «Velocidade»

Ecuación	en x = 5 cm
Velocidade	$v = 0,503 \cos(4 \pi t - \pi/2)$ (m/s)

● **Dioptrio plano**

- Un raio de luz de frecuencia $5 \cdot 10^{14}$ Hz incide cun ángulo de incidencia de 30° sobre unha lámina de vidro de caras plano-paralelas de espesor 10 cm. Sabendo que o índice de refracción do vidro é 1,50 e o do aire 1,00:
 - Enuncia as leis da refracción e debuxa a marcha dos raios no aire e no interior da lámina de vidro.
 - Calcula a lonxitude de onda da luz no aire e no vidro, e a lonxitude percorrida polo raio no interior da lámina.
 - Acha o ángulo que forma o raio de luz coa normal cando emerxe de novo ao aire.

Dato: $c = 3,00 \cdot 10^8$ m/s (P.A.U. Set. 14)

Rta.: b) $\lambda(\text{aire}) = 600$ nm; $\lambda(\text{vidro}) = 400$ nm; $L = 10,6$ cm; c) $\theta_{r2} = 30^\circ$

Datos

- Frecuencia do raio de luz
- Ángulo de incidencia
- Espesor da lámina de vidro
- Índice de refracción do vidro
- Índice de refracción do aire
- Velocidade da luz no baleiro

Incógnitas

- Lonxitude de onda de luz no aire e no vidro
- Lonxitude percorrida polo raio de luz no interior da lámina
- Ángulo de desviación do raio ao saír da lámina

Ecuacións

- Índice de refracción dun medio i no que a luz se despraza á velocidade v_i
- Relación entre a velocidade v , a lonxitude de onda λ e a frecuencia f
- Lei de Snell da refracción

Cifras significativas: 3

- $f = 5,00 \cdot 10^{14}$ Hz
- $\theta_{i1} = 30,0^\circ$
- $e = 10,0$ cm = 0,100 m
- $n_v = 1,50$
- $n_a = 1,00$
- $c = 3,00 \cdot 10^8$ m/s

- λ_a, λ_v
- L
- θ_{r2}

$$n_i = \frac{c}{v_i}$$

$$v = \lambda \cdot f$$

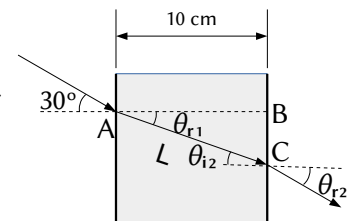
$$n_i \cdot \text{sen } \theta_i = n_r \cdot \text{sen } \theta_r$$

Solución:

- As leis de Snell da refracción son:
 - O raio incidente, o raio refractado e a normal están no mesmo plano.
 - A relación matemática entre os índices de refracción n_i e n_r dos medios incidente e refractado e os ángulos de incidencia e refracción θ_i e θ_r , é:

$$n_i \cdot \text{sen } \theta_i = n_r \cdot \text{sen } \theta_r$$

Representábase a traxectoria da luz. O raio incidente no punto A cun ángulo de incidencia $\theta_{i1} = 30^\circ$ pasa do aire ao vidro dando un raio refractado que forma o primeiro ángulo de refracción θ_{r1} e o segundo ángulo de incidencia θ_{i2} entre o vidro e o aire. Finalmente sae da lámina de vidro polo punto B co segundo ángulo de refracción θ_{r2} .



- A velocidade da luz no aire é:

$$v_a = \frac{c}{n_a} = \frac{3,00 \cdot 10^8 \text{ m/s}}{1,00} = 3,00 \cdot 10^8 \text{ m/s}$$

Por tanto, a lonxitude de onda da luz no aire é:

$$\lambda_a = \frac{v_a}{f} = \frac{3,00 \cdot 10^8 \text{ m/s}}{5,00 \cdot 10^{14} \text{ s}^{-1}} = 6,00 \cdot 10^{-7} \text{ m} = 600 \text{ nm}$$

A velocidade da luz no vidro é:

$$v_v = \frac{c}{n_v} = \frac{3,00 \cdot 10^8 \text{ m/s}}{1,50} = 2,00 \cdot 10^8 \text{ m/s}$$

Por tanto, a lonxitude de onda da luz no vidro é:

$$\lambda_v = \frac{v_v}{f} = \frac{2,00 \cdot 10^8 \text{ m/s}}{5,00 \cdot 10^{14} \text{ s}^{-1}} = 4,00 \cdot 10^{-7} \text{ m} = 400 \text{ nm}$$

Como o espesor da lámina é de 10 cm, a lonxitude percorrida polo raio é a hipotenusa L do triángulo ABC. O primeiro ángulo de refracción θ_{r1} pódese calcular aplicando a lei de Snell

$$1,00 \cdot \text{sen } 30^\circ = 1,50 \cdot \text{sen } \theta_{r1}$$

$$\text{sen } \theta_{r1} = \frac{1,00 \cdot \text{sen } 30^\circ}{1,50} = 0,333$$

$$\theta_{r1} = \arcsen 0,333 = 19,5^\circ$$

Por tanto a hipotenusa L vale:

$$L = \frac{e}{\cos \theta_{r1}} = \frac{10,0 \text{ [cm]}}{\cos 19,5^\circ} = 10,6 \text{ cm}$$

c) Como a lámina de vidro é de caras paralelas, o segundo ángulo de incidencia a_{i2} é igual ao primeiro ángulo de refracción:

$$\theta_{i2} = \theta_{r1} = 19,5^\circ$$

Para calcular o ángulo co que sae da lámina, vólvese a aplicar a lei de Snell entre o vidro (que agora é o medio incidente) e o aire (que é o medio refractado):

$$1,50 \cdot \text{sen } 19,5^\circ = 1,00 \cdot \text{sen } \theta_{r2}$$

$$\text{sen } \theta_{r2} = \frac{1,50 \cdot \text{sen } 19,5^\circ}{1,00} = 0,500$$


$$\theta_{r2} = \arcsen 0,500 = 30,0^\circ$$

Análise: Este resultado é correcto porque o raio sae paralelo ao raio incidente orixinal.

As respostas poden calcularse coa folla de cálculo [Física \(gal\)](#).

As instrucións para o manexo desta folla de cálculo poden verse no enlace [instrucións](#).

Para ir á folla para resolver un problema de dioptrio plano pode elixir unha destas opcións:

- Prema sobre a icona ►|, do grupo ◀◀►►| situado na parte inferior esquerda e prema sobre a pestana  Dioptrio.
- No índice, pulse a tecla [Ctrl] mentres preme sobre a cela [Dioptrio plano](#) do capítulo **Vibracións e ondas**.

Escriba os datos nas celas de cor branca con bordo azul. Pulse nas celas de cor laranxa para elixir entre as opcións que se presentan. Para este problema debería ser:

Índice de refracción

Medios	n	Ángulo de incidencia	Aire-Vidrio
Aire	1		30°
Vidrio	1,5	Espesor	10 cm
Aire	1		
Frecuencia			5·10 ¹⁴ Hz

Oss resultados son:

Ángulo refractado	límite
Aire-Vidrio	19,5°
Vidrio-Aire	30,0°
41,8°	
Lonxitude recorrida polo raio na lámina	10,6 cm
Lonxitude de onda	Aire: 6,00·10 ⁻⁷ m
	Vidrio: 4,00·10 ⁻⁷ m
	Aire: 6,00·10 ⁻⁷ m



2. Un raio de luz pasa da auga (índice de refracción $n = 4/3$) ao aire ($n = 1$). Calcula:
- O ángulo de incidencia se os raios reflectido e refractado son perpendiculares entre si.
 - O ángulo límite.
 - Hai ángulo límite se a luz incide do aire á auga?

(P.A.U. Xuño 13)

Rta.: a) $\theta_i = 36,9^\circ$; b) $\lambda = 48,6^\circ$

Datos

Índice de refracción do aire
 Índice de refracción da auga
 Ángulo entre o raio refractado e o reflectido

Incógnitas

Ángulo de incidencia
 Ángulo límite

Ecuacións

Lei de Snell da refracción

Cifras significativas: 3

$n = 1,00$
 $n_a = 4 / 3 = 1,33$
 $\Delta\theta_{rx} = 90,0^\circ$

θ_i
 λ

$n_i \cdot \text{sen } \theta_i = n_r \cdot \text{sen } \theta_r$

Solución:

a) Aplicando a lei de Snell da refracción:

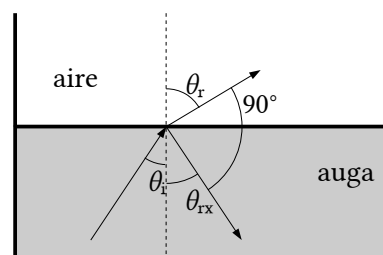
$1,33 \cdot \text{sen } \theta_i = 1,00 \cdot \text{sen } \theta_r$

Á vista do debuxo debe cumprirse que

$\theta_r + 90^\circ + \theta_{rx} = 180^\circ$

Como o ángulo de reflexión θ_{rx} é igual ao ángulo de incidencia θ_i , a ecuación anterior convértese en:

$\theta_i + \theta_r = 90^\circ$



É dicir, que o ángulo de incidencia θ_i e o de refracción θ_r son complementarios.

O seno dun ángulo é igual ao coseno do seu complementario. Entón a primeira ecuación queda:

$$1,33 \cdot \text{sen } \theta_i = \text{sen } \theta_r = \cos \theta_i$$

$$\tan \theta_i = \frac{1}{1,33} = 0,75$$

$$\theta_i = \arctan 0,75 = 36,9^\circ$$

b) Ángulo límite λ é o ángulo de incidencia que produce un ángulo de refracción de 90°

$$1,33 \cdot \text{sen } \lambda = 1,00 \cdot \text{sen } 90,0^\circ$$

$$\text{sen } \lambda = 1,00 / 1,33 = 0,75$$

$$\lambda = \arcsen 0,75 = 48,6^\circ$$

c) Non. Cando a luz pasa do aire á auga, o ángulo de refracción é menor que o de incidencia. Para conseguir un ángulo de refracción de 90° o ángulo de incidencia tería que ser maior que 90° e non estaría no aire. Tamén pode deducirse da lei de Snell.

$$1,00 \cdot \text{sen } \lambda_1 = 1,33 \cdot \text{sen } 90^\circ$$

$$\text{sen } \lambda_1 = 1,33 / 1,00 > 1$$

É imposible. O seno dun ángulo non pode ser maior que uno.

3. Sobre un prisma equilátero de ángulo 60° (ver figura), incide un raio luminoso monocromático que forma un ángulo de 50° coa normal á cara AB. Sabendo que no interior do prisma o raio é paralelo á base AC:

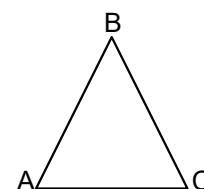
a) Calcula o índice de refracción do prisma.

b) Determina o ángulo de desviación do raio ao saír do prisma, debuxando a traxectoria que segue o raio.

c) Explica se a frecuencia e a lonxitude de onda correspondentes ao raio luminoso son distintas, ou non, dentro e fóra do prisma.

Dato: $n(\text{aire}) = 1$

Rta.: a) $n_p = 1,5$; b) $\theta_{r2} = 50^\circ$



(P.A.U. Set. 11)

Datos

Ángulos do triángulo equilátero

Ángulo de incidencia

Índice de refracción do aire

Incógnitas

Índice de refracción do prisma

Ángulo de desviación do raio ao saír do prisma

Ecuacións

Lei de Snell da refracción

Cifras significativas: 2

$$\theta = 60^\circ$$

$$\theta_i = 50^\circ$$

$$n_a = 1,0$$

$$n_p$$

$$\theta_{r2}$$

$$n_i \cdot \text{sen } \theta_i = n_r \cdot \text{sen } \theta_r$$

Solución:

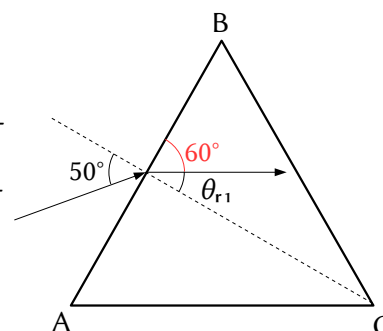
a) Na lei de Snell da refracción

$$n_i \cdot \text{sen } \theta_i = n_r \cdot \text{sen } \theta_r$$

n_i e n_r representan os índices de refracción dos medios incidente e refractado

θ_i e θ_r representan os ángulos de incidencia e refracción que forma cada raio coa normal á superficie de separación entre os dous medios.

O primeiro ángulo de refracción θ_{r1} , que forma o raio de luz refractado paralelo á base do prisma, vale 30° , xa que é o complementario ao de 60° do triángulo equilátero.



$$n_p = n_r = \frac{n_i \cdot \sin \theta_{i1}}{\sin \theta_{r1}} = \frac{1,0 \cdot \sin 50^\circ}{\sin 30^\circ} = 1,5$$

b) Cando o raio sae do prisma, o ángulo de incidencia θ_{i2} do raio coa normal ao lado BC vale 30° . Volvendo aplicar a lei de Snell

$$\sin \theta_{r2} = \frac{n_i \cdot \sin \theta_{i2}}{n_r} = \frac{1,5 \cdot \sin 30^\circ}{1,0} = 0,77$$

$$\theta_{r2} = \arcsen 0,77 = 50^\circ$$

c) A frecuencia f dunha onda electromagnética é unha característica da mesma e non varía co medio.

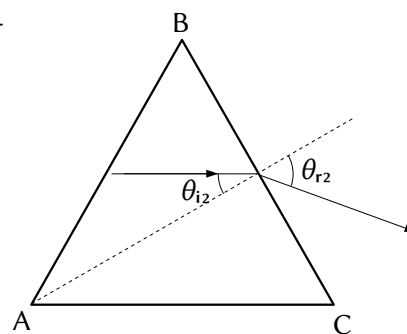
A lonxitude de onda λ está relacionada con ela por

$$c = \lambda \cdot f$$

A velocidade da luz nun medio transparente é sempre menor que no baleiro. O índice de refracción do medio é o cociente entre ambas as velocidades.

$$n = \frac{c}{v}$$

A velocidade da luz no aire é practicamente igual á do baleiro, mentres que no prisma é 1,5 veces menor. Como a frecuencia é a mesma, a lonxitude de onda (que é inversamente proporcional á frecuencia) no prisma é 1,5 veces menor que no aire.



Cuestións e problemas das [Probas de avaliación de Bacharelato para o acceso á Universidade](#) (A.B.A.U. e P.A.U.) en Galiza.

[Respostas](#) e composición de [Alfonso J. Barbadillo Marán](#).

Alguns cálculos fixéronse cunha [folla de cálculo](#) de [LibreOffice](#) do mesmo autor.

Algunhas ecuacións e as fórmulas orgánicas construíronse coa extensión [CLC09](#) de Charles Lalanne-Cassou.

A tradución ao/desde o galego realizouse coa axuda de [traducindote](#), e de o [tradutor da CIXUG](#).

Procurouse seguir as [recomendacións](#) do Centro Español de Metrología (CEM).

Consultouse ao Copilot de Microsoft Edge e tivéronse en conta algunhas das súas respostas nas cuestións.

Actualizado: 27/09/24

Sumario

ONDAS

Ecuación e características das ondas..... 1

1. Unha onda transmítese ao longo dunha corda. O punto situado en $x = 0$ oscila segundo a ecuación $y = 0,1 \cos(10 \pi t)$ e outro punto situado en $x = 0,03$ m oscila segundo a ecuación $y = 0,1 \cos(10 \pi t - \pi / 4)$. Calcula:.....1
 - a) A amplitude, a lonxitude de onda, o número de onda k , o período, a frecuencia e pulsación ω da onda.....
 - b) A velocidade de propagación da onda e indica en que sentido se propaga.....
 - c) O tempo que ha de transcorrer para que a onda percorra unha distancia igual a 2λ
 - d) Escribe a ecuación de onda.....
 - e) A velocidade de oscilación dun punto da corda e a súa aceleración en función do tempo.....
 - f) A elongación, velocidade e aceleración dun punto situado en $x = 0,03$ m no instante $t = 0,05$ s.....
 - g) Os valores máximos da velocidade e aceleración das partículas da corda.....
 - h) Os valores do tempo para os que $y(x, t)$ é máxima na posición $x = 0,03$ m.....
 - i) Os valores do tempo para os que un punto situado en $x = 0,03$ m ten velocidade máxima.....
 - j) A distancia entre dous puntos cuxa diferenza de fase nun instante dado é $2 \pi / 3$
 - k) A diferenza de fase entre dous puntos separados 15 cm.....
 - l) A diferenza de fase entre dous estados de vibración da mesma partícula cando o intervalo de tempo transcorrido é de 0,05 s.....
 - m) Para un tempo fixo t , que puntos da onda están en fase co punto que se atopa en $x = 0,03$ m?.....
 - n) Para unha posición fixa x , para que tempos o estado de vibración dese punto está en fase coa vibración para $t = 0,05$ s?.....
2. Unha onda harmónica transversal de frecuencia 2 Hz, lonxitude de onda 20 cm e amplitude 4 cm, propágase por unha corda no sentido positivo do eixe X. No intre $t = 0$, a elongación no punto $x = 0$ é $y = 2,83$ cm.....7
 - a) Expresa matematicamente a onda e represéntaa graficamente en $(t = 0; 0 < x < 40 \text{ cm})$
 - b) Calcula a velocidade de propagación da onda e determina, en función do tempo, a velocidade de oscilación transversal da partícula situada en $x = 5$ cm.....

Dioptrio plano..... 9

1. Un raio de luz de frecuencia $5 \cdot 10^{14}$ Hz incide cun ángulo de incidencia de 30° sobre unha lámina de vidro de caras plano-paralelas de espesor 10 cm. Sabendo que o índice de refracción do vidro é 1,50 e o do aire 1,00:.....9
 - a) Enuncia as leis da refracción e debuxa a marcha dos raios no aire e no interior da lámina de vidro.....
 - b) Calcula a lonxitude de onda da luz no aire e no vidro, e a lonxitude percorrida polo raio no interior da lámina.....
 - c) Acha o ángulo que forma o raio de luz coa normal cando emerxe de novo ao aire.....
2. Un raio de luz pasa da auga (índice de refracción $n = 4/3$) ao aire ($n = 1$). Calcula:..... 11
 - a) O ángulo de incidencia se os raios reflectido e refractado son perpendiculares entre si.....
 - b) O ángulo límite.....
 - c) Hai ángulo límite se a luz incide do aire á auga?.....
3. Sobre un prisma equilátero de ángulo 60° (ver figura), incide un raio luminoso monocromático que forma un ángulo de 50° coa normal á cara AB. Sabendo que no interior do prisma o raio é paralelo á base AC:..... 12
 - a) Calcula o índice de refracción do prisma.....
 - b) Determina o ángulo de desviación do raio ao saír do prisma, debuxando a traxectoria que segue o raio.....
 - c) Explica se a frecuencia e a lonxitude de onda correspondentes ao raio luminoso son distintas, ou non, dentro e fóra do prisma.....